

BACCALAURÉAT GÉNÉRAL

SESSION DE 2000

HISTOIRE – GÉOGRAPHIE

SÉRIES : L - ES - S

DURÉE DE L'ÉPREUVE : 4 heures

Les calculatrices ne sont pas autorisées

Ce sujet comporte 9 pages numérotées de 1/9 à 9/9

*Le candidat doit traiter UN des trois sujets de géographie
de la première partie et UN des deux sujets d'histoire
de la deuxième partie*

Première partie

GÉOGRAPHIE

Le candidat choisit UN des trois sujets proposés.

I.

COMPOSITION

L'Allemagne : puissance européenne, puissance mondiale ?

II.

COMPOSITION

Population et développement : le candidat traitera au choix soit l'exemple chinois, soit l'exemple indien.

Le croquis, obligatoire, se limite au pays retenu pour la composition.
Utiliser le fond de carte page 9/9.

III.

ÉTUDE DE DOCUMENTS

Comment est organisé l'espace économique mondial ?

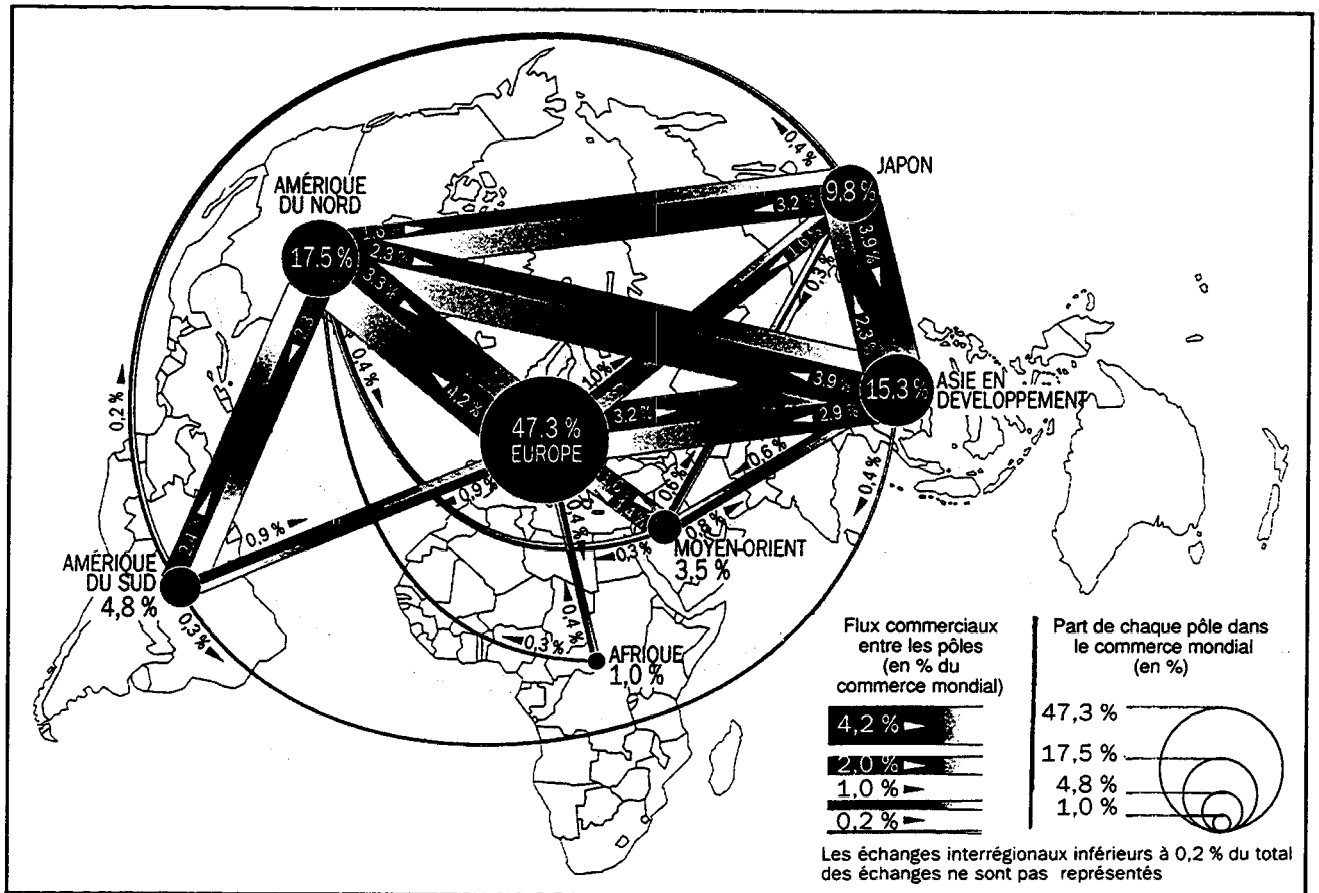
Liste des documents :

- *Document n° 1* : Le commerce mondial : les grands pôles commerciaux et les principaux flux.
Source : d'après *Sciences humaines*, hors-série n° 17, juin-juillet 1997.
- *Document n° 2* : Les grandes places boursières.
Source : d'après *Conjoncture 98*, Bréal.
- *Document n° 3* : Le produit national brut par État, en 1998.
Source : C.A.R.T. / IFRI, *Ramsès*, 1998.
- *Document n° 4* : Les firmes multinationales.
Source : Jean-Louis Mucchielli, *Multinationales et mondialisation*, Paris, Le Seuil, 1998.
- *Document n° 5* : Les implantations de Mercedes, Ford et Toyota dans le monde.
Sources : *Diercke Weltatlas*, Westerman, 1966
et *Sciences humaines*, hors-série n° 17, juin-juillet 1997.

Questions

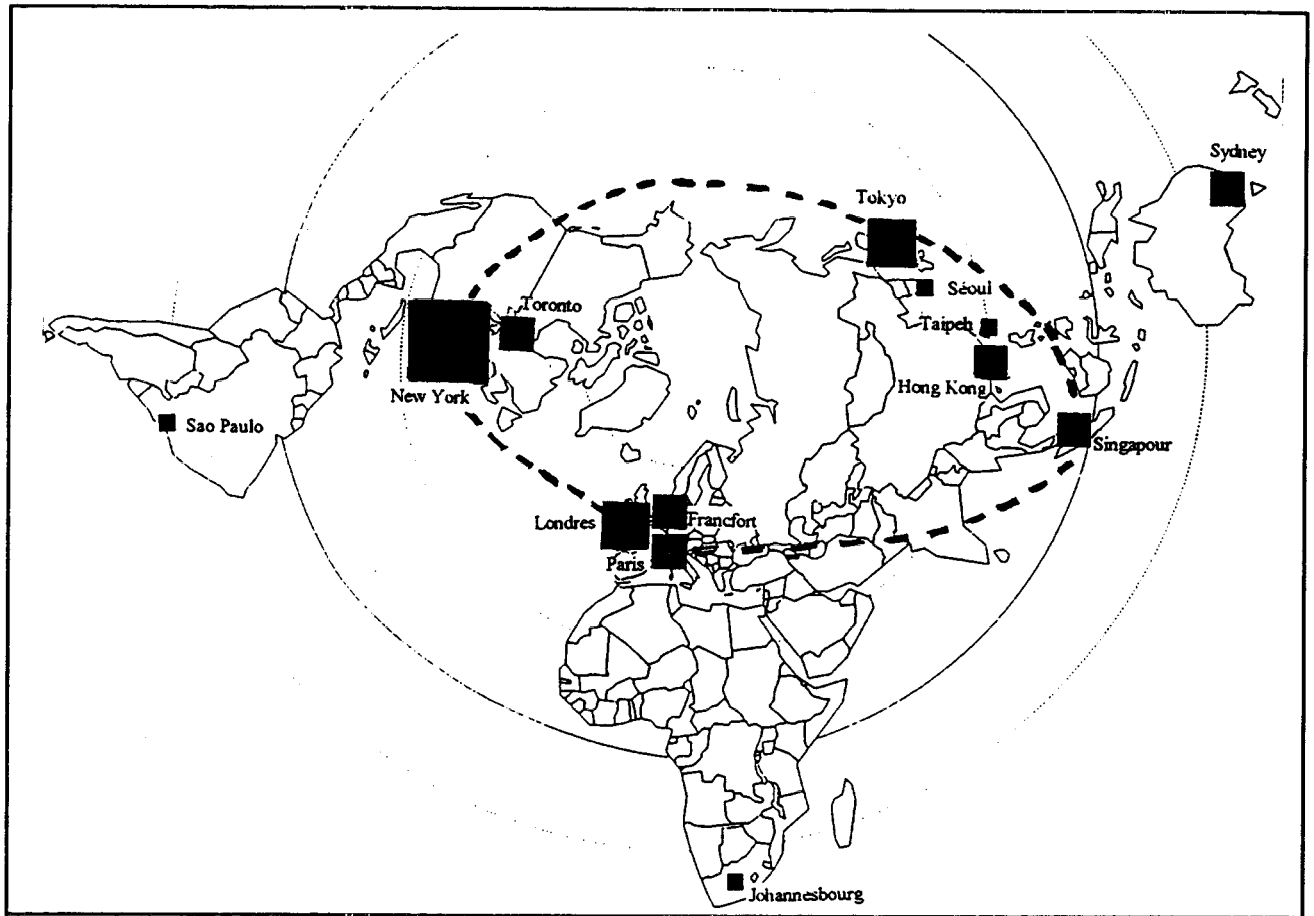
1. Présenter les documents.
2. En fonction du sujet, sélectionner, classer et confronter les informations tirées de l'ensemble des documents et les regrouper par thèmes.
3. Rédiger, de façon synthétique (environ 300 mots), une réponse argumentée à la problématique définie par le sujet, en faisant appel, y compris de manière critique, à l'ensemble des informations tirées des documents.

Le commerce mondial : les grands pôles commerciaux et les principaux flux.



Source : d'après *Sciences humaines*, hors-série n° 17, juin-juillet 1997.

Les grandes places boursières.



--- Réseau continu des cotations

■ < 300

■ 300 à 1 000

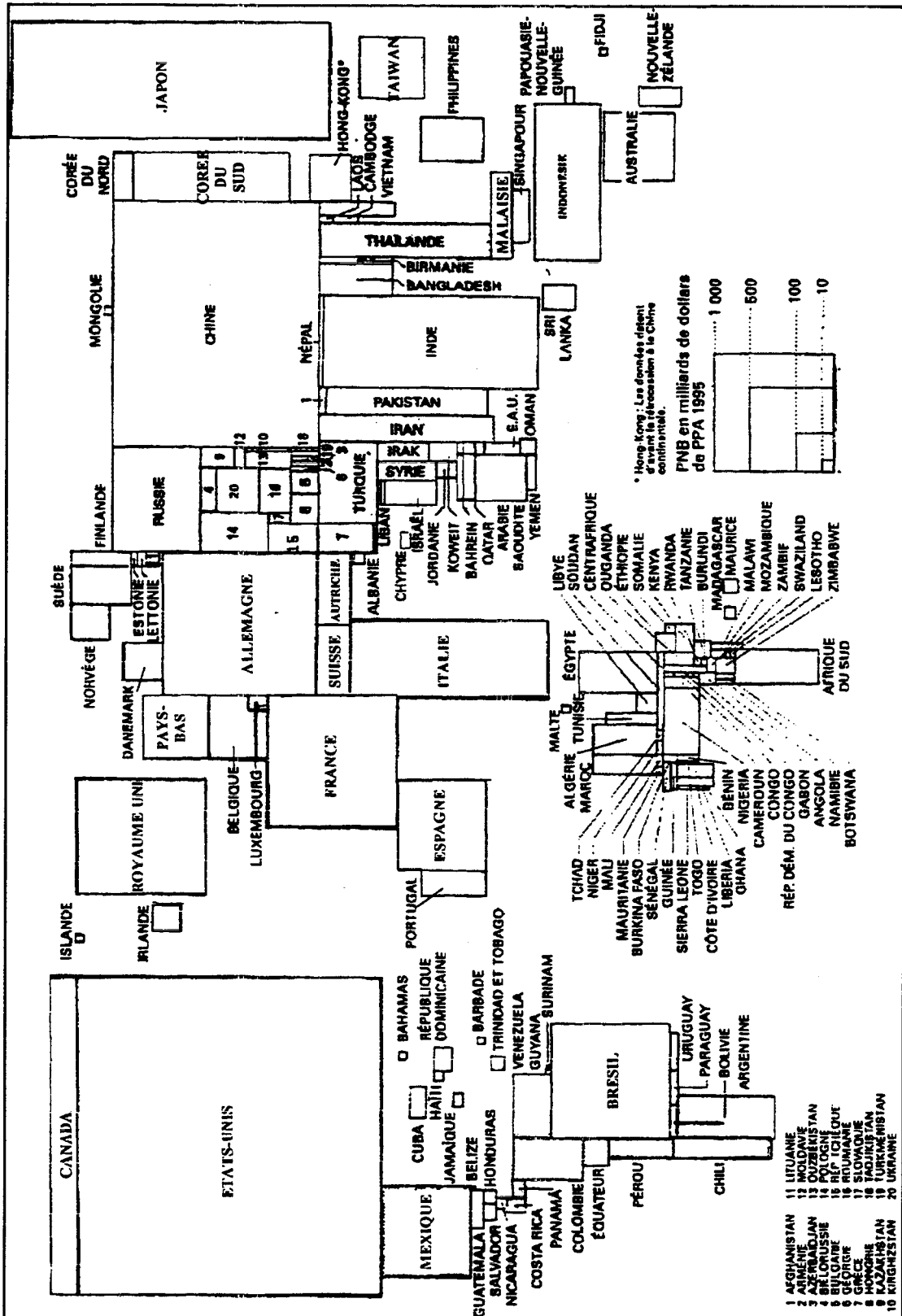
■ 1 000 à 3 000

■ > 7 000

} Capitalisation boursière en milliards de dollars

Source : d'après *Conjoncture 98*, Bréal.

Le produit national brut par État, en 1998.
(en dollars de parité de pouvoir d'achat*)



* Le taux de change de parité de pouvoir d'achat par rapport au dollar est le nombre d'unités de monnaie nationale qui permet d'acquérir, dans le pays considéré, le même panier de biens et de services qu'un dollar aux États-Unis.

Source : C.A.R.T. / IFRI, Ramsès, 1998.

Document n° 4 :

Les firmes multinationales.

Le phénomène « multinational » est d'abord l'apanage des grandes firmes. Les 100 premières firmes multinationales représentent environ un cinquième du stock mondial des investissements internationaux avec 1 700 milliards de dollars d'actifs à l'étranger en 1995. Les pays de l'Union européenne, les États-Unis et le Japon sont les pays d'origine de 87 des 100 premières multinationales. [...]

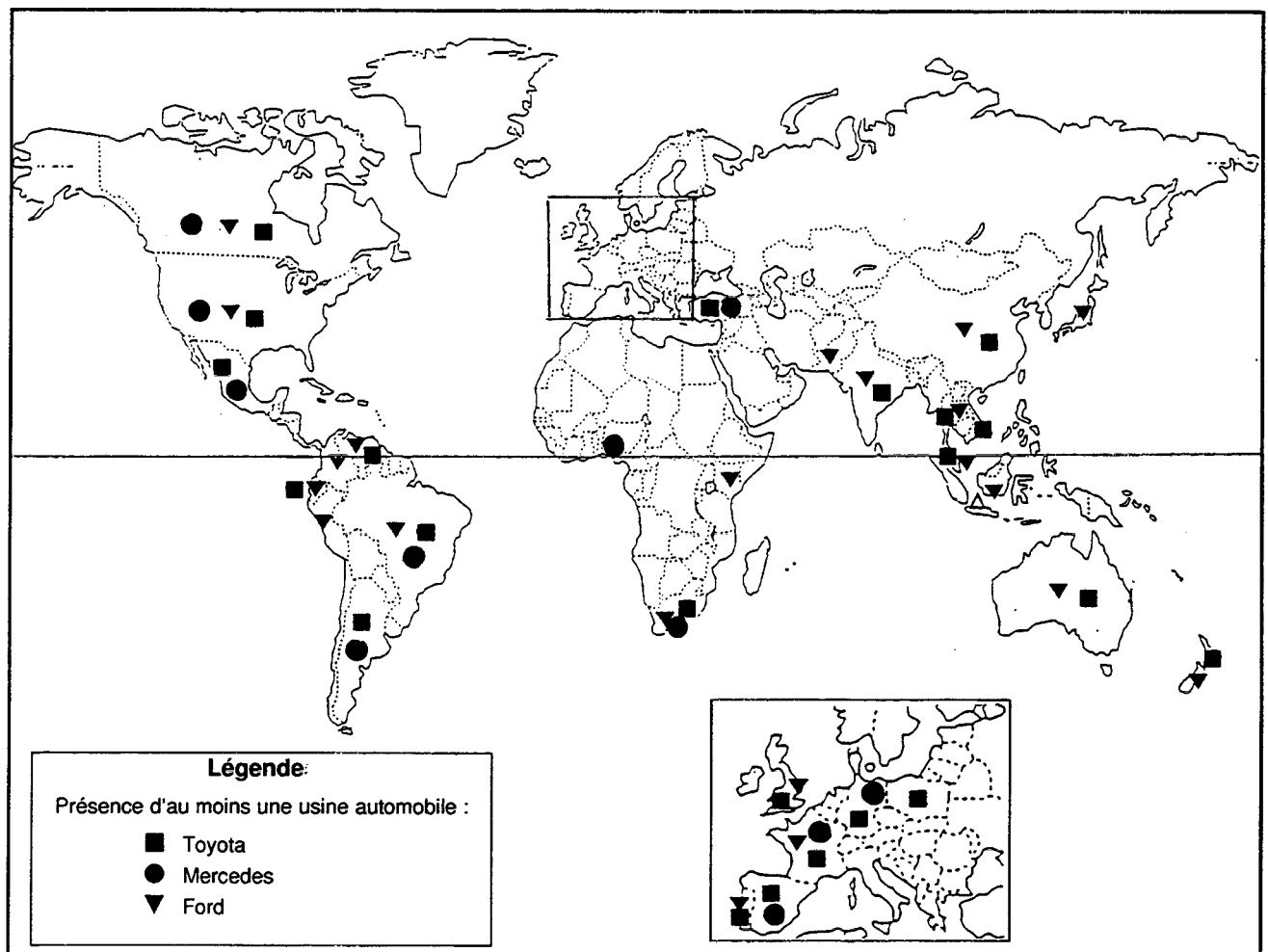
Au début des années 80, une nouvelle vague de multinationales apparaît : on les appelle les « multinationales du Tiers-Monde ». Ces firmes sont originaires en général des nouveaux pays industrialisés comme la Corée du Sud, Taïwan, Hong Kong, Singapour ou encore le Brésil et le Mexique... La Corée apparaît comme le principal pays d'origine de ces firmes. Dès le début des années 80, trois firmes coréennes se classent parmi les 100 plus grandes firmes mondiales : Samsung, Daewoo et Lucky Goldstar. [...]

Le groupe Samsung est, pour sa part, implanté au Portugal, aux États-Unis, en Grande-Bretagne, en Thaïlande, au Mexique et en Espagne, essentiellement pour y monter ou y fabriquer des téléviseurs couleur, des magnétoscopes, des réfrigérateurs, des fours à micro-ondes ou des vélomoteurs.

Source : Jean-Louis Mucchielli, *Multinationales et mondialisation*, Paris, Le Seuil, 1998.

Document n° 5 :

Les implantations de Mercedes, Ford et Toyota dans le monde.



Sources : *Diercke Weltatlas*, Westerman, 1996 et *Sciences Humaines*, hors-série n° 17, juin-juillet 1997.

Deuxième partie

HISTOIRE

COMMENTAIRE D'UN DOCUMENT D'HISTOIRE :

Le candidat choisit l'UN des deux sujets proposés. Il répond aux questions en une page environ.

I.

Extraits de l'intervention radiodiffusée et télévisée du général de Gaulle, lors du putsch des généraux à Alger, le 23 avril 1961.

Un pouvoir insurrectionnel s'est établi en Algérie par un *pronunciamento*⁽¹⁾ militaire.

Les coupables de l'usurpation ont exploité la passion des cadres de certaines unités spécialisées, l'adhésion enflammée d'une partie de la population de souche européenne qu'égarèrent les craintes et les mythes, l'impuissance des responsables submergés par la conjuration militaire.

Ce pouvoir a une apparence : un quarteron de généraux en retraite⁽²⁾. Il a une réalité : un groupe d'officiers, partisans, ambitieux et fanatiques. Ce groupe et ce quarteron possèdent un savoir-faire expéditif et limité. Mais ils ne voient et ne comprennent la nation et le monde que déformés à travers leur frénésie. Leur entreprise conduit tout droit à un désastre national.

Car l'immense effort de redressement de la France, entamé depuis le fond de l'abîme, le 18 juin 1940, mené ensuite jusqu'à ce qu'en dépit de tout la victoire fût remportée, l'indépendance assurée, la République restaurée ; repris depuis trois ans, afin de refaire l'État, de maintenir l'unité nationale, de reconstituer notre puissance, de rétablir notre rang au-dehors, de poursuivre notre œuvre outre-mer à travers une nécessaire décolonisation, tout cela risque d'être rendu vain, à la veille même de la réussite, par l'aventure odieuse et stupide des insurgés en Algérie. Voici l'État bafoué, la nation défiée, notre puissance ébranlée, notre prestige international abaissé, notre place et notre rôle en Afrique compromis. Et par qui ? Hélas ! Hélas ! Par des hommes dont c'était le devoir, l'honneur, la raison d'être, de servir et d'obéir. [...]

Devant le malheur qui plane sur la patrie et la menace qui pèse sur la République, ayant pris l'avis officiel du Conseil constitutionnel, du Premier ministre, du président du Sénat, du président de l'Assemblée nationale, j'ai décidé de mettre en œuvre l'article 16 de notre Constitution. À partir d'aujourd'hui, je prendrai, au besoin directement, les mesures qui me paraîtront exigées par les circonstances. Par là même, je m'affirme, pour aujourd'hui et pour demain, en la légitimité française et républicaine que la nation m'a conférée, que je maintiendrai, quoi qu'il arrive, jusqu'au terme de mon mandat ou jusqu'à ce que me manquent, soit les forces, soit la vie, et dont je prendrai les moyens d'assurer qu'elle demeure après moi.

Françaises, Français ! Voyez où risque d'aller la France, par rapport à ce qu'elle était en train de redevenir.

Françaises, Français ! Aidez-moi !

Source : Message radiotélévisé du chef de l'État à la nation, 23 avril 1961.

Discours et Messages, tome V.

(1) *Pronunciamento* : coup d'État.

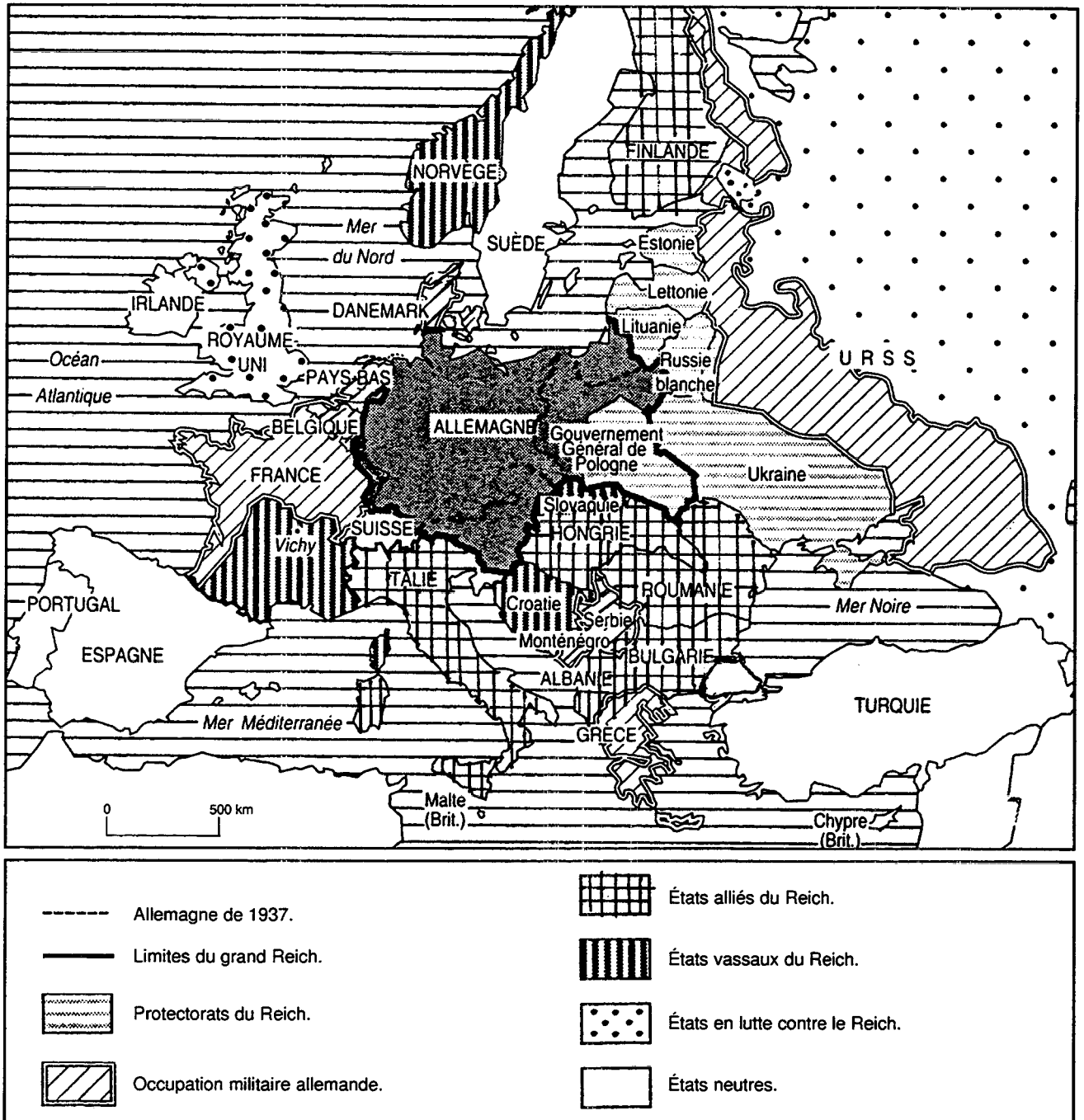
(2) Quarteron : désigne les quatre généraux suivants : Challe, Salan, Zeller et Jouhaud.

Questions

1. Présenter le document.
2. Quel est le « pouvoir insurrectionnel » dont parle le général de Gaulle ? Quels en sont les origines et les objectifs ?
3. Expliquer la formule : « j'ai décidé de mettre en œuvre l'article 16 de la Constitution ».
4. Qu'entend le général de Gaulle par l'« immense effort de redressement de la France ? »

II.

L'Europe en octobre 1942.



Sources : d'après P. Milza et S. Berstein, *Histoire du XX^e siècle*, tome 1, Paris, Hatier, 1996.

Questions

1. Présenter la carte.
2. De quels territoires est constitué le grand Reich ?
3. Expliquer la situation de la France en octobre 1942.
4. Quels sont les États européens en lutte contre l'Allemagne et ses alliés en octobre 1942 ? Depuis quand et pourquoi ?

