

SESSION 2001

HISTOIRE - GÉOGRAPHIE

Séries : L - ES - S

DURÉE DE L'ÉPREUVE : 4 heures

Les calculatrices ne sont pas autorisées

Ce sujet comporte 10 pages numérotées de 1/10 à 10/10

*Le candidat doit traiter UN des trois sujets de géographie
de la première partie et UN des deux sujets d'histoire
de la deuxième partie*

Tournez la page S.V.P.

Première partie

GÉOGRAPHIE

Le candidat choisit UN des trois sujets proposés.

SUJET I.

COMPOSITION

L'organisation du territoire des États-Unis d'Amérique.

Croquis obligatoire : utiliser le fond de carte page 9/10.

SUJET II.

COMPOSITION

Les inégalités de développement dans le monde.

Croquis obligatoire : utiliser le fond de carte page 10/10.

SUJET III.

ÉTUDE DE DOCUMENTS

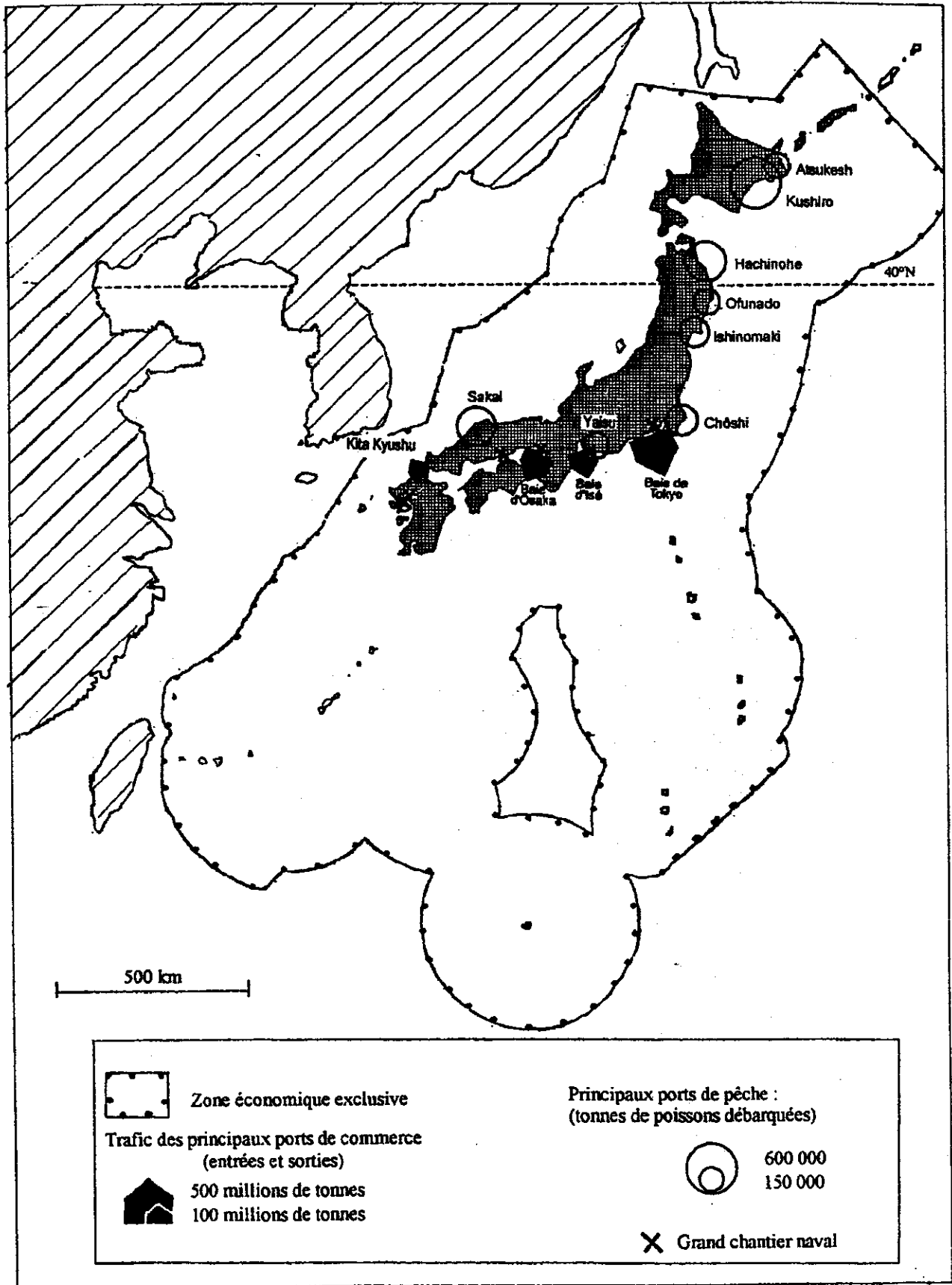
Les espaces de la puissance économique japonaise dans le territoire national.

Liste des documents :

- *Document n°1* : Le domaine maritime du Japon.
- *Document n°2* : La mégalopole japonaise.
- *Document n°3* : Les terre-pleins littoraux.
- *Document n°4* : Tokyo.
- *Document n°5* : Industries chimiques, sidérurgiques et électroniques au Japon.

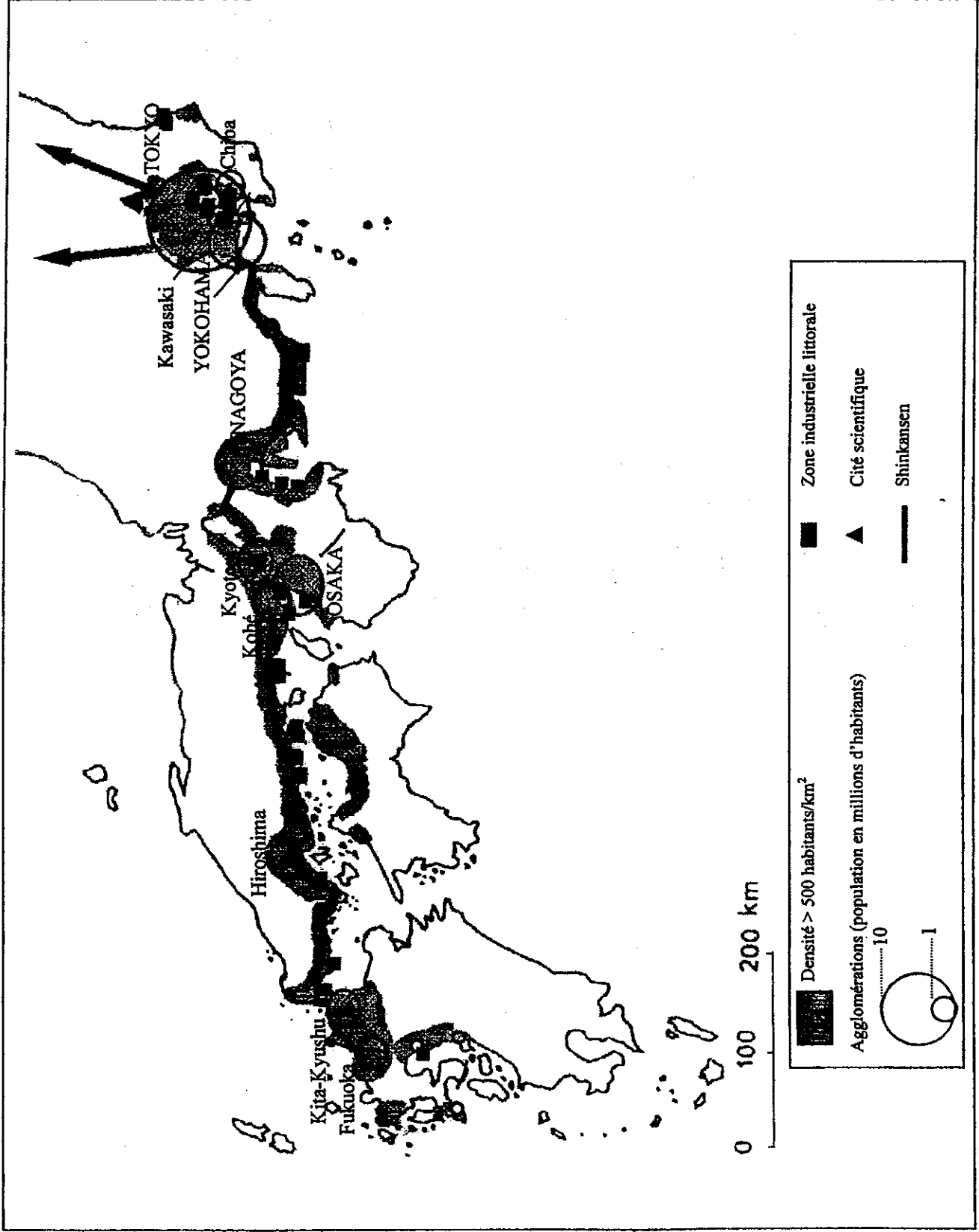
Questions

1. Présenter les documents.
2. En fonction du sujet, sélectionner, classer et confronter les informations tirées de l'ensemble des documents et les regrouper par thèmes.
3. Rédiger de façon synthétique (environ 300 mots), une réponse argumentée à la problématique définie par le sujet en faisant appel, y compris de manière critique, à l'ensemble des informations tirées des documents.



La puissance des États,
Documentation photographique n° 8006, décembre 1998.

Tournez la page S.V.P.



D'après P. Pelletier, Géographie universelle, Chine, Japon, Corée, Belin Reclus, 1994.

Document 3 :

Les terre-pleins littoraux

Les combinats⁽¹⁾ exigent une localisation littorale, puisqu'ils dépendent des importations pour leur ravitaillement en matières premières ou en énergie. [...]

L'utilisation des terre-pleins littoraux par les combinats offre de multiples avantages pour les entreprises et l'industrie. Le terrain y est vaste, extensible, rapidement construit, peu coûteux. [...]

Le plus souvent, les terre-pleins représentent la meilleure solution pour les industriels et les technocrates, d'où le rythme effréné de leur construction pendant la Haute Croissance. [...] Face aux abus et aux risques de pollution, une loi édictée en 1973 pose de nouvelles conditions quant à la création de terre-pleins [...]. La construction des terre-pleins littoraux n'est pas abandonnée pour autant. On note une réorientation de leur usage vers des fonctions urbaines, ainsi les logements et espaces récréatifs dans les baies de Tokyo ou d'Osaka. [...] Après avoir créé l'île artificielle de Port Island (436 hectares), la ville de Kobé lance un projet de dimension équivalente (Rokko Island). Le nouvel aéroport international du Kansai est en construction dans la baie d'Osaka, celui de Haneda en extension dans la baie de Tokyo*.

⁽¹⁾ Combinat : zone industrielle littorale
* les aéroports sont désormais construits

P. Pelletier, Géographie universelle, *Chine, Japon, Corée*,
Belin Reclus, 1994.

Document 4 :

Tokyo

Initialement, c'est dans les environs immédiats de la gare centrale de Tokyo, au sud-est du Palais impérial, que se sont développés les quartiers d'affaires. Le secteur de Marunouchi abrite les multiples immeubles du groupe Mitsubishi, installé ici depuis un siècle. Plus au nord, au-delà de la gare centrale, le quartier Otemashi est celui de nombreuses banques et notamment des sièges des sociétés Fuji et Sanwa, du géant des télécommunications NTT et de nombreuses firmes industrielles comme Nippon Steel. Mais c'est à Nihonbashi, à l'est, que se trouvent les bureaux des plus puissants organismes financiers japonais, la Banque du Japon, la Banque de Tokyo, première banque japonaise, et le siège de l'empire financier Mitsui. Tous sont proches du "saint des saints", l'immeuble de la bourse, installée ici au siècle dernier près des entrepôts de ce qui était alors le port de Tokyo et son marché aux grains, dans ce quartier de Kabutocho qui lui a donné son nom.

Tous ces quartiers d'affaires sont les lieux privilégiés de regroupement des commerces de luxe et des grands magasins (on en compte près d'une quinzaine), de restaurants et de grands hôtels. L'internationalisation se lit également dans l'architecture. C'est le cas au Forum international de Tokyo, récemment édifié (1996) en plein cœur du "CBD" (*Central Business District*). C'est aussi le cas à Shinjuku.

Dans une agglomération qui abrite les sièges sociaux de 89 des 500 premières firmes mondiales, le vieux centre, saturé et congestionné, ne peut plus satisfaire tous les besoins et les immeubles d'affaires, souvent sous la forme de hautes tours isolées, se multiplient à la périphérie, gagnant les anciens quartiers industriels du vieux port et même les terre-pleins portuaires proches de l'embouchure du fleuve Sumida. De véritables "mini-CBD" se sont aussi créés à la périphérie du cœur de l'agglomération, égrenés le long de la voie ferrée qui ceinture ce dernier à cinq ou six kilomètres du centre historique. [...]

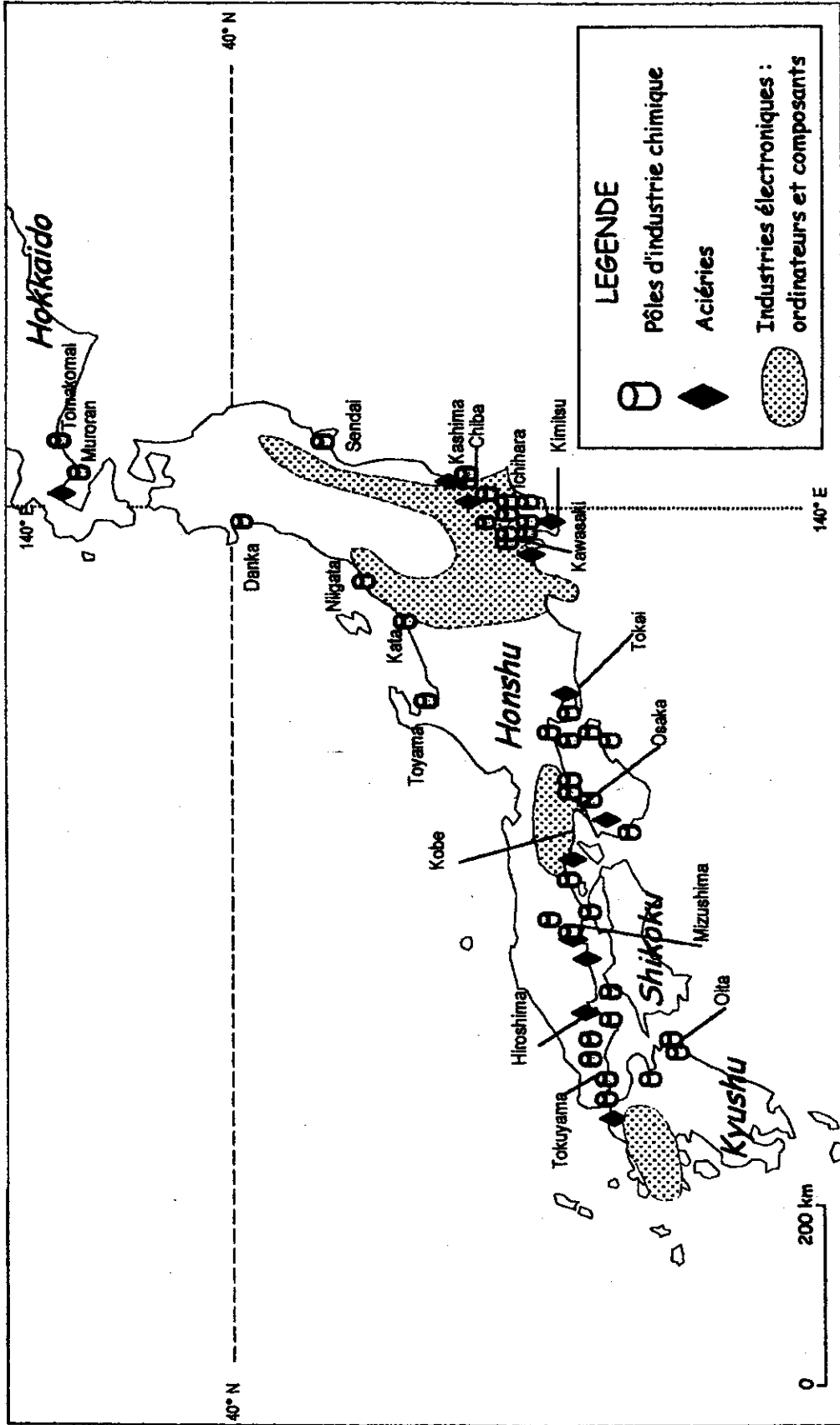
Les montagnes périphériques restent quasi vides, vouées à la forêt et protégées autant pour des raisons symboliques que par une volonté forte des autorités désormais soucieuses de protéger l'environnement de la baie, un des sites les plus pollués du monde.

D'après G. Dorel, *La puissance des États*,
Documentation photographique n° 8006, décembre 1998.

Tournez la page S.V.P.

Épreuve : HISTOIRE - GÉOGRAPHIE	Repère : IHGGEME1	Page : 5/10
---------------------------------	-------------------	-------------

Industries chimiques, sidérurgiques et électroniques au Japon



d'après P. Pelletier. Le Japon, A. Colin, 1997.

Deuxième partie

HISTOIRE

COMMENTAIRE D'UN DOCUMENT D'HISTOIRE

Le candidat choisit UN des deux sujets proposés. Il répond aux questions en une page au maximum.

SUJET I.

La conférence de Bandoung (1955)

Depuis sept jours nous sommes dans cette belle ville de Bandoung, et Bandoung a été au cours de cette semaine le point de mire, la capitale, devrais-je dire, de l'Asie et de l'Afrique [...]. Vous avez vu le projet de communiqué final que je vous ai lu. Je pense qu'il représente un résultat considérable. Mais j'aimerais plus encore attirer votre attention sur le fait que nous nous sommes rencontrés, vus, liés d'amitié et que nous avons discuté ensemble pour trouver une solution à nos problèmes communs [...].

Il y a aujourd'hui un autre aspect en Asie. Il n'y a plus d'Asie soumise, elle est vivante, dynamique [...]. Nous sommes résolus à n'être d'aucune façon dominés par aucun pays, par aucun continent [...]. C'est pourquoi nous élevons notre voix contre l'hégémonie et le colonialisme dont beaucoup d'entre nous ont soufferts pendant longtemps. Et c'est pourquoi nous devons veiller à ce qu'aucune autre forme de domination ne nous menace. Nous voulons être amis avec l'Ouest, avec l'Est, avec tout le monde [...].

Je pense qu'il n'y a rien de plus terrible que l'immense tragédie qu'a vécue l'Afrique depuis plusieurs siècles [...]. Malheureusement, même aujourd'hui, le drame de l'Afrique est plus grand que celui d'aucun autre continent, tant du point de vue racial que politique. Il appartient à l'Asie d'aider l'Afrique au mieux de ses possibilités, car nous sommes des continents frères.

Extraits du discours de clôture de Nehru à la conférence de Bandoung le 24 avril 1955.

Traduit de l'anglais, d'après J. Nehru, *Speeches*, 1949-1961.

Questions

1. Présenter le document.
2. Expliquer l'expression : « Il n'y a plus d'Asie soumise ».
3. Quelle est, en 1955, la situation de l'Afrique ?
4. D'après Nehru, quelles sont les perspectives ouvertes par la conférence de Bandoung ?

Tournez la page S.V.P.

SUJET II.

La population active en France en 1954 et en 1995

	1954		1995	
	<i>en milliers</i>	<i>en %</i>	<i>en milliers</i>	<i>en %</i>
Population totale (en milliers)	42 781		58 020	
Population active (en milliers)	19 615		25 432	
<i>dont :</i>	C.S.P. ⁽¹⁾		P.C.S. ⁽²⁾	
	<i>en milliers</i>	<i>en %</i>	<i>en milliers</i>	<i>en %</i>
Agriculteurs exploitants	3 958	20,3	613	2,4
Salariés agricoles	1 161	6,0	375	1,5
Patrons de l'industrie et du commerce	2 322	11,9	1 613	6,3
Professions libérales	121	0,6	356	1,4
Cadres	433	2,2	2 770	10,9
Employés	2 536	13,0	7 583	29,8
Ouvriers	6 485	33,2	7 066	27,8
Autres	2 499	12,8	5 056	19,9
Chômeurs		<i>inférieur à 1</i>		11,7

Source : I.N.S.E.E.

⁽¹⁾ C.S.P. : Catégories socio-professionnelles (nomenclature créée en 1950).

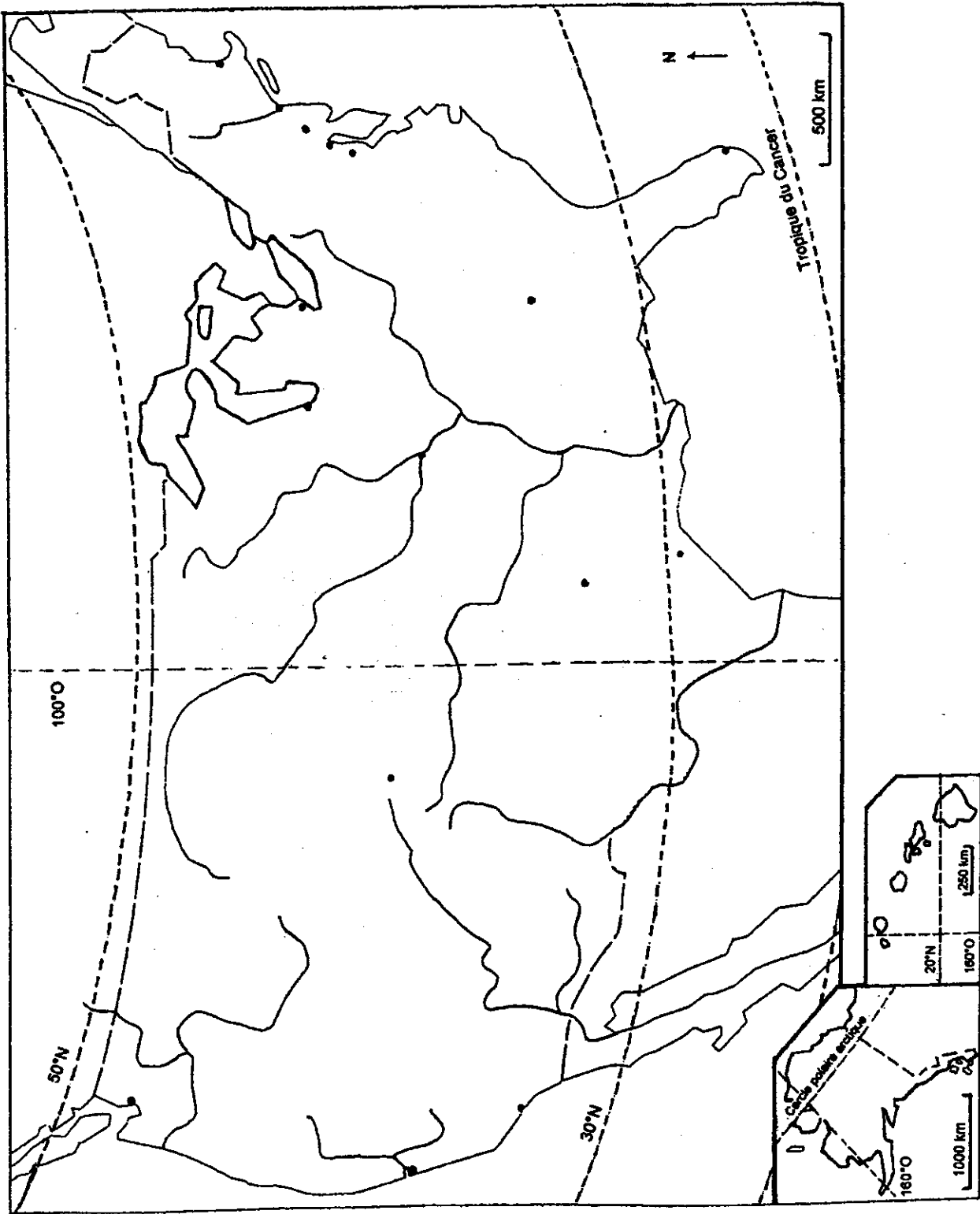
⁽²⁾ P.C.S. : Professions et catégories socio-professionnelles (nouvelle nomenclature 1982).

Questions

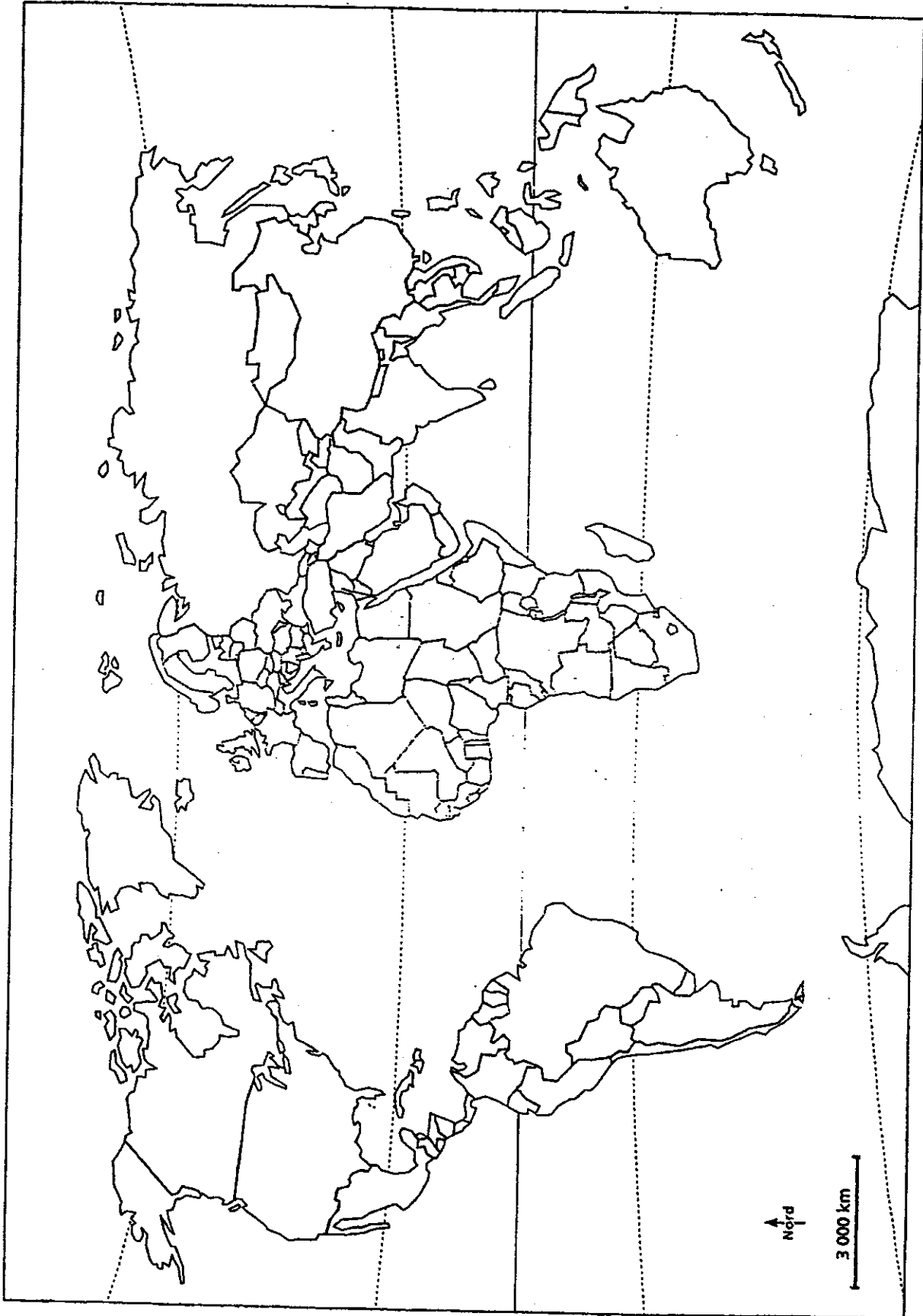
1. Présenter le document.
2. Expliquer l'évolution des emplois agricoles.
3. Relever et expliquer les données qui mettent en évidence la croissance des services.
4. Expliquer l'évolution du chômage.

LEGENDE :

TITRE :



TITRE :



LEGENDE :